
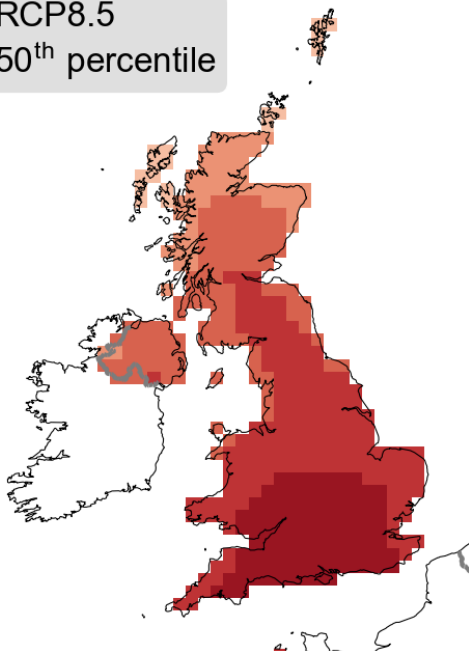




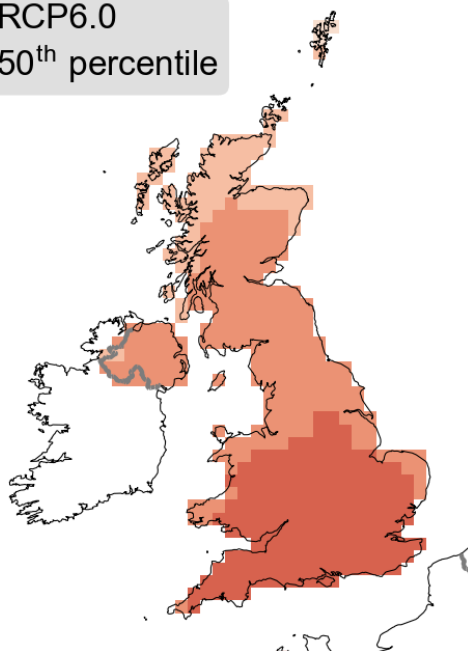
# Dehongli modelau hinsawdd



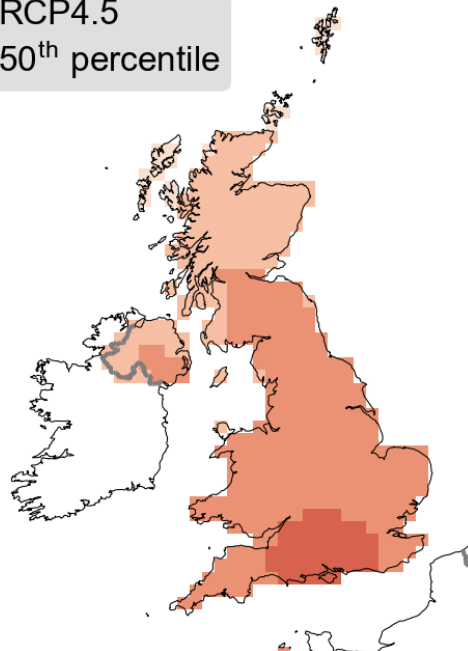
RCP8.5  
50<sup>th</sup> percentile



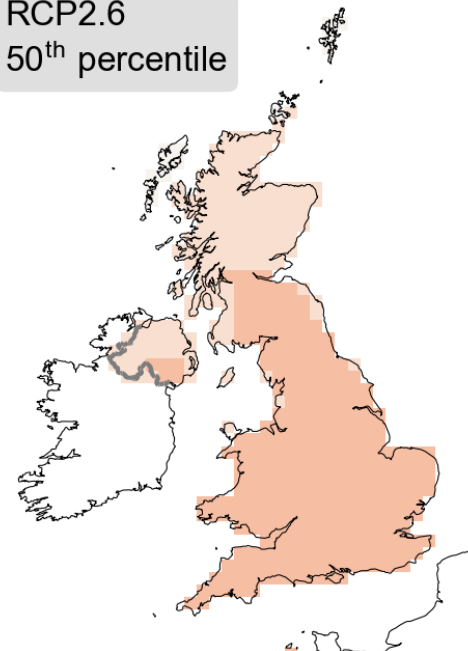
RCP6.0  
50<sup>th</sup> percentile



RCP4.5  
50<sup>th</sup> percentile



RCP2.6  
50<sup>th</sup> percentile

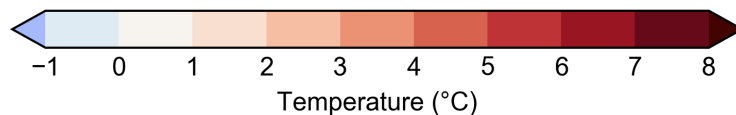


**Scenario 1:** allyriadau yn parhau i godi drwy weddill y ganrif hon ('senario waethaf')

**Scenario 2:** uchafbwynt allyriadau tua 2080 ac yna'n gostwng drwy weddill y ganrif hon

**Scenario 3:** uchafbwynt allyriadau tua 2040 ac yna'n gostwng drwy weddill y ganrif hon

**Scenario 4:** allyriadau CO2 yn dechrau gostwng erbyn 2020 ac yn mynd i sero erbyn 2100 ('senario achos gorau')



# Questions

- A oes gwahaniaeth yn hinsawdd y DU erbyn diwedd y ganrif hon yn dibynnu ar ba senario y maent yn ei ystyried?
- Os felly, sut olwg sydd ar y gwahaniaeth hwn?
- Beth allai effeithiau'r newidiadau hyn fod?
- Ym mha DU yn y dyfodol yr hoffent fyw a pham?

Rhagor o wybodaeth yma:  
[www.metoffice.gov.uk/schools](http://www.metoffice.gov.uk/schools)

